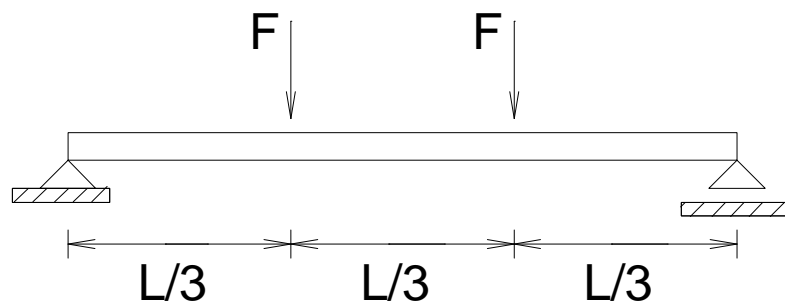


EM 421 - RESISTÊNCIA DOS MATERIAIS I
Exame Data: 10/12/96
Profs. Marco Lúcio Bittencourt e Euclides de Mesquita Neto

GABARITO

1. **QUESTÃO (VALOR 6.0)** A viga abaixo mostrada deverá ser construída com um material cuja tensão normal admissível de trabalho é no máximo $\sigma_{xxmax}=200 \text{ N/mm}^2$. O material do qual a viga será construída possui um módulo de elasticidade longitudinal (Young) $E=2,0 \times 10^6 \text{ N/mm}^2$. A viga deve suportar duas cargas concentradas $F= 10.000 \text{ N}$ ao longo de um vão $L=6\text{m}$. Por razões construtivas a seção transversal de viga deverá ser um retângulo com dimensões $B \times 2B$. Para esta viga solicita-se: a) as equações de esforço cortante, momento fletor, deflexão angular (rotação) e deflexão linear (flecha), b) os diagramas da cortante e do momento fletor; c) as reações de apoio; d) a dimensão mínima B para que o requisito de tensão seja respeitado; e) a dimensão mínima B para que no ponto $x=L/2$ a flecha não ultrapasse o valor $L/600$.



SOLUÇÃO:

- a) Equação do carregamento

$$q(x) = -F \langle x - \frac{L}{3} \rangle^{-1} - F \langle x - \frac{2L}{3} \rangle^{-1}$$

- b) Condições de contorno

$$v(x=0)=0 \quad M_z(x=0)=0$$

$$v(x=L)=0 \quad M_z(x=L)=0$$

- c) Integração da equação diferencial

$$EI_z d^4 v/dx^4 = q(x) = -F \langle x - \frac{L}{3} \rangle^{-1} - F \langle x - \frac{2L}{3} \rangle^{-1}$$

- c.1) Primeira integração: cortante

$$V_y = EI_z d^3 v/dx^3 = -F \langle x - \frac{L}{3} \rangle^0 - F \langle x - \frac{2L}{3} \rangle^0 + C_1$$

- c.2) Segunda integração: momento fletor

$$M_z = EI_z d^2 v/dx^2 = -F \langle x - \frac{L}{3} \rangle^1 - F \langle x - \frac{2L}{3} \rangle^1 + C_1 x + C_2$$

- c.3) Terceira integração: rotação

$$EI_z dv/dx = -\frac{F}{2} \langle x - \frac{L}{3} \rangle^2 - \frac{F}{2} \langle x - \frac{2L}{3} \rangle^2 + C_1 \frac{x^2}{2} + C_2 x + C_3$$

- c.4) Quarta integração: deslocamento

$$EI_z v = -\frac{F}{6} \langle x - \frac{L}{3} \rangle^3 - \frac{F}{6} \langle x - \frac{2L}{3} \rangle^3 + C_1 \frac{x^3}{6} + C_2 \frac{x^2}{2} + C_3 x + C_4$$

d) Determinação das constantes de integração.

- $x = 0 : E I_z v(0) = -\frac{F}{6}(0) + \frac{F}{6}(0) + C_1(0) + C_2(0) + C_3(0) + C_4 = 0$

logo: $C_4 = 0$

- $x = 0 : M_z(x = 0) = -F \cdot 0 - F \cdot 0 + C_1 \cdot 0 + C_2$

logo:

$$C_2 = 0$$

- $x = L : M_z(x = L) = -F(L - \frac{L}{3}) - F(L - \frac{2L}{3}) + C_1 L + C_2 = 0$

$$-F \frac{2L}{3} - F \frac{1L}{3} + C_1 L = 0$$

logo:

$$C_1 = F = 10000$$

- $x = L : E I_z v(x = 0) = -\frac{F}{6}(L - \frac{L}{3})^3 - \frac{F}{6}(L - \frac{2L}{3})^3 + C_1 \frac{L^3}{6} + C_3 L = 0$

$$-\frac{F}{6}(\frac{2L}{3})^3 - \frac{F}{6}(\frac{L}{3})^3 + F \frac{L^3}{6} + C_3 L = 0$$

$$-\frac{F}{6} L^3 \frac{8}{27} - \frac{F L^3}{6} \frac{1}{27} + F \frac{L^3}{6} + C_3 L = 0$$

$$C_3 = \frac{F L^2}{6} \left(\frac{8}{27} + \frac{1}{27} - 1 \right) = \frac{F L^2}{6} \left(\frac{1}{3} - 1 \right) = -\frac{2}{3} \frac{F L^2}{6} = -\frac{F L^2}{9}$$

$$C_3 = -\frac{F L^2}{9} = -10000 \frac{36}{9} = -40000$$

e) Equações finais.

e.1) Constante:

$$V_y(x) = -F \langle x - \frac{L}{3} \rangle^0 - F \langle x - \frac{2L}{3} \rangle^0 + F$$

$$V_y(x) = -10000 \langle x - 2 \rangle^0 - 10000 \langle x - 4 \rangle^0 + 10000$$

e.2) Momento Fletor:

$$M_z(x) = -F \langle x - \frac{L}{3} \rangle^1 - F \langle x - \frac{2L}{3} \rangle^1 + F x$$

$$M_z(x) = -10000 \langle x - 2 \rangle^1 - 10000 \langle x - 4 \rangle^1 + 10000 x$$

e.3) Rotação:

$$\frac{dv}{dx} = \frac{1}{E I_z} \left[-\frac{F}{2} \langle x - \frac{L}{3} \rangle^2 - \frac{F}{2} \langle x - \frac{2L}{3} \rangle^2 + F \frac{x^2}{2} - \frac{F L^2}{9} \right]$$

$$\frac{dv}{dx} = \frac{1}{E I_z} \left[-5000 \langle x - 2 \rangle^2 - 5000 \langle x - 4 \rangle^2 + 5000 x^2 - 40000 \right]$$

e.4) Deslocamento:

$$V = \frac{1}{E I_z} \left[-\frac{F}{6} \langle x - \frac{L}{3} \rangle^3 - \frac{F}{6} \langle x - \frac{2L}{3} \rangle^3 + \frac{F}{6} x^3 - \frac{F L^2}{9} x \right]$$

$$V = \frac{1}{E I_z} \left[-\frac{5000}{3} \langle x - 2 \rangle^3 - \frac{5000}{3} \langle x - 4 \rangle^3 + \frac{5000}{3} x^3 - 40000 x \right]$$

f) Diagramas:

- $0 < x < L/3 : V_y(x) = F : V_y(x \rightarrow 0^+) = 10000 \text{ N}$
 $V_y(x \rightarrow 2^-) = 10000 \text{ N}$

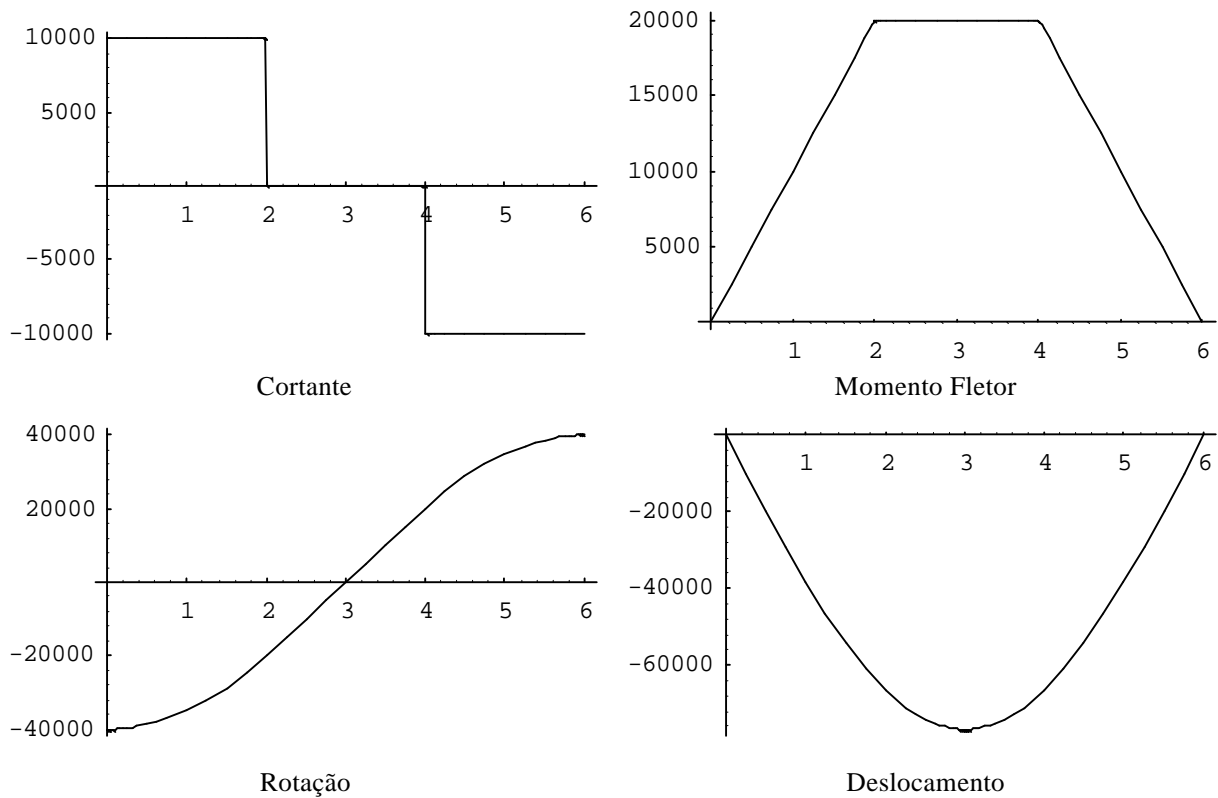
$$M_z(x) = F_x : M_z(x \rightarrow 0^+) = 0$$

$$M_z(x \rightarrow 2^-) = 20000 \text{ N} \cdot \text{m}$$

- $L/3 < x < 2L/3$: $V_y(x) = -F + F = 0$
 $M_z(x) = -F(x - L/3) + F \cdot x = +F \cdot L/3$: $M_z(x \rightarrow 2^+) = 20000 \text{ N.m}$
 $M_z(x \rightarrow 4^-) = 20000 \text{ N.m}$
- $2L/3 < x < L$: $V_y(x) = -F - F + F = -F$: $V_y(x \rightarrow 4^+) = -10000 \text{ N}$
 $V_y(x \rightarrow 6^-) = -10000 \text{ N}$

$$M_z(x) = -F(x - L/3) - F(x - 2L/3) + Fx = -Fx + FL = M_z(x \rightarrow 4^+) = 20000 \text{ N.m}$$

$$M_z(x \rightarrow 6^-) = 0$$



g) Reações de apoio:

$$R_{Ay} = V_y(x=0) = +10000 \text{ N}$$

$$R_{Dy} = V_y(x=L) = -10000 \text{ N}$$

h) Dimensionamento :

h.1) Secção + solicitada:

$$x = 2^- : M_z = 20000 \text{ N.m}$$

$$V_y = 10000 \text{ N}$$

h.2) Tensão máxima:

$$\sigma = \frac{M_z}{I_z} y = \frac{M_z}{W_z} = \bar{\sigma} \Rightarrow W_z = \frac{20000}{10^4} = 200 \cdot 10^6$$

$$W_z = \frac{I_z}{y} = \frac{b \cdot (2b)^3 / 12}{b} = \frac{8 \cdot b^3}{12} = \frac{2 \cdot b^3}{3} = 10^4 \Rightarrow b^3 = 1,5 \cdot 10^4$$

$$b = 5,31 \cdot 10^{-2} \text{ m} = 5,31 \text{ cm} = 53,13 \text{ mm}$$

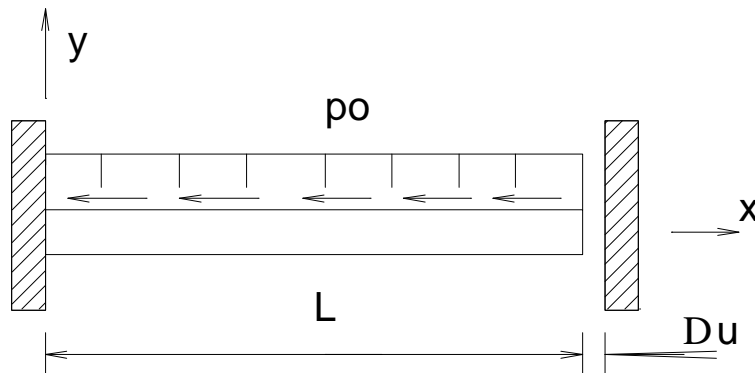
h.3) Flecha máxima:

$$\begin{aligned} \bullet \quad V(x = L/2) &= \frac{1}{EI_z} \left[-\frac{F(L-L)^3}{6 \cdot 2 \cdot 3} + \frac{F(L)^3}{6 \cdot 2} - \frac{FL^2 L}{9 \cdot 2} \right] = \frac{L}{600} \\ &= \frac{1}{EI_z} \left[-\frac{F(3L-2L)^3}{6 \cdot 6} + \frac{F(L)^3}{6 \cdot 8} - \frac{FL^3}{18} \right] = \frac{L}{600} \\ &= I_z = 100 \frac{FL^2}{E \cdot 51840} \left(\frac{1104}{2,0 \cdot 10^{12}} \right) = 100 \cdot \frac{10000 \cdot 36}{2,0 \cdot 10^{12} \cdot 51840} = 3,83 \cdot 10^6 \text{ m}^3 \\ &= I_z = \frac{b}{12} (2 \cdot b)^3 = \frac{8}{12} b^4 = 3,83 \cdot 10^6 \Rightarrow b = 4,89 \cdot 10^2 \text{ m} = 48,96 \text{ mm} \end{aligned}$$

$$\bullet \quad V(x = L/2) = \frac{F \cdot L^3}{6 \cdot E \cdot I_z \cdot 5184} \left(\frac{1104}{5184} \right) \Rightarrow E \cdot I_z \cdot V(x = L/2) = 10000 \cdot \frac{6^3}{5184} \cdot \left(\frac{1104}{5184} \right)$$

$$E \cdot I_z \cdot V(x = L/2) = FL^3 \frac{23}{648}$$

2. **QUESTÃO (VALOR 4.0)** Considere a barra abaixo mostrada. Ela está engastada em uma extremidade e possui uma folga de valor Du em relação à outra extremidade. A barra também está submetida a um carregamento uniformemente distribuído p_0 . No processo de montagem esta barra será fixada na extremidade direita, sendo alongada do valor Du . Para este sistema pede-se: a) as equações e os diagramas de força normal $N_x(x)$ e deslocamento axial $u(x)$, b) a área A da seção transversal da barra, sabendo-se que a tensão normal máxima que o material suporta é $\sigma_{xx\max} = 50 \text{ N/mm}^2$ e seu módulo de Young $E = 2,0 \times 10^6 \text{ N/mm}^2$. Dados: $L = 2 \text{ m}$, $Du = L/2000$, $p_0 = 10.000 \text{ N/m}$



SOLUÇÃO:

a) Equação do carregamento

$$p(x) = -p_0$$

b) Condições de Contorno

$$x = 0 : u_1 = 0$$

$$x = L : u_1 = Du = \Delta u$$

c) Integração da equação do deslocamento

$$EA \frac{d^2 u}{dX^2} = -p(x) = p_0$$

c.1) Primeira Integração: Força Normal

$$EA \frac{du}{dX} = p_0 x + C_1$$

c.2) Segunda Integração : Deslocamento

$$EA U = p_0 \frac{x^2}{2} + C_1 x + C_2$$

d) Determinação de C_1 e C_2

- $x = 0 : EA u(x = 0) = p_0 \frac{0^2}{2} + C_1 \cdot 0 + C_2 = 0 \rightarrow C_2 = 0$

- $x = L : EA u(x = L) = p_0 \frac{L^2}{2} + C_1 L + 0$

$$EA \Delta U = p_0 \frac{L^2}{2} + C_1 L \rightarrow C_1 = \frac{EA \Delta U}{L} - p_0 \frac{L}{2}$$

e) Equações Finais

e.1) Força Normal

$$EA \frac{du}{dX} = N(x) = p_0 x + \left(\frac{EA \Delta u}{L} - p_0 \frac{L}{2} \right)$$

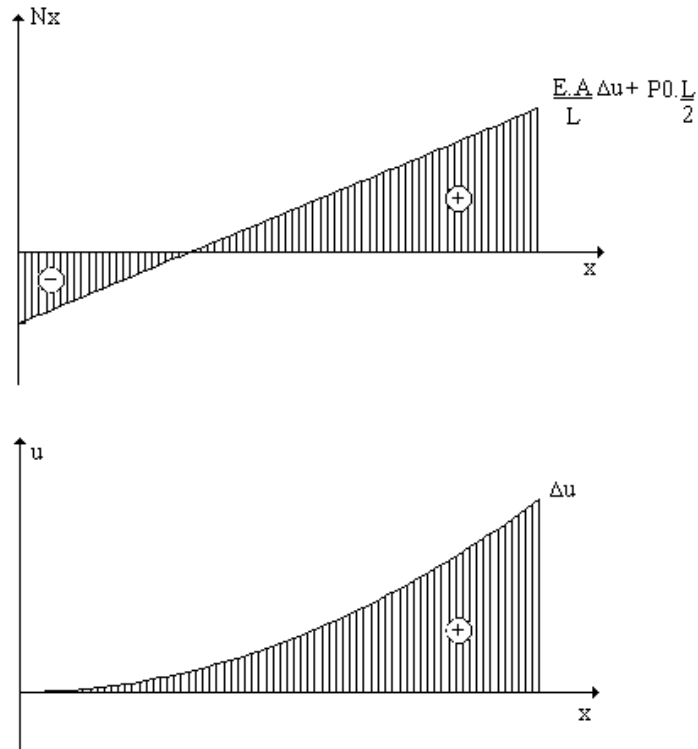
e.2) Deslocamento

$$u = \frac{1}{EA} \left[p_0 \frac{x^2}{2} + \left(\frac{EA \Delta u}{L} - p_0 \frac{L}{2} \right) x \right]$$

f) Diagramas

- $x \rightarrow 0^+ : N_x = \frac{EA \Delta u}{L} - p_0 \frac{L}{2}$
 $u = 0$

- $x \rightarrow L^- : N_x = p_0 L + \frac{EA \Delta u}{L} - p_0 \frac{L}{2}$
 $N_x = p_0 \frac{L}{2} + \frac{EA \Delta u}{L}$
 $u = \frac{1}{EA} \left[p_0 \frac{L^2}{2} + \left(\frac{EA \Delta u}{L} - p_0 \frac{L}{2} \right) L \right] = \Delta u$



g) Secção mais solicitada

$$x = L : N_x = \frac{E.A.}{L} \Delta u \pm p_0 \frac{L}{2}$$

h) Dimensionamento

$$\sigma = \frac{N_x}{A} = \bar{\sigma} \rightarrow \frac{(E.A.) \Delta u \pm (p_0 L)}{A} = \bar{\sigma}$$

$$A \cdot \bar{\sigma} - \frac{(E.A.) \Delta u}{L} = - p_0 \cdot \frac{L}{2}$$

$$A \cdot (\bar{\sigma} - E \cdot \frac{\Delta u}{L}) = - p_0 \cdot \frac{L}{2}$$

$$A = \frac{p_0 \cdot L}{2 \cdot (\bar{\sigma} - E \cdot \frac{\Delta u}{L})} = \frac{10000 \cdot (2/2)}{50 \times 10^6 - 2.0 \times 10^{12} \cdot (1/200)} = 1,05 \times 10^{-5} \text{ m}^2 = 10,5 \text{ mm}^2$$