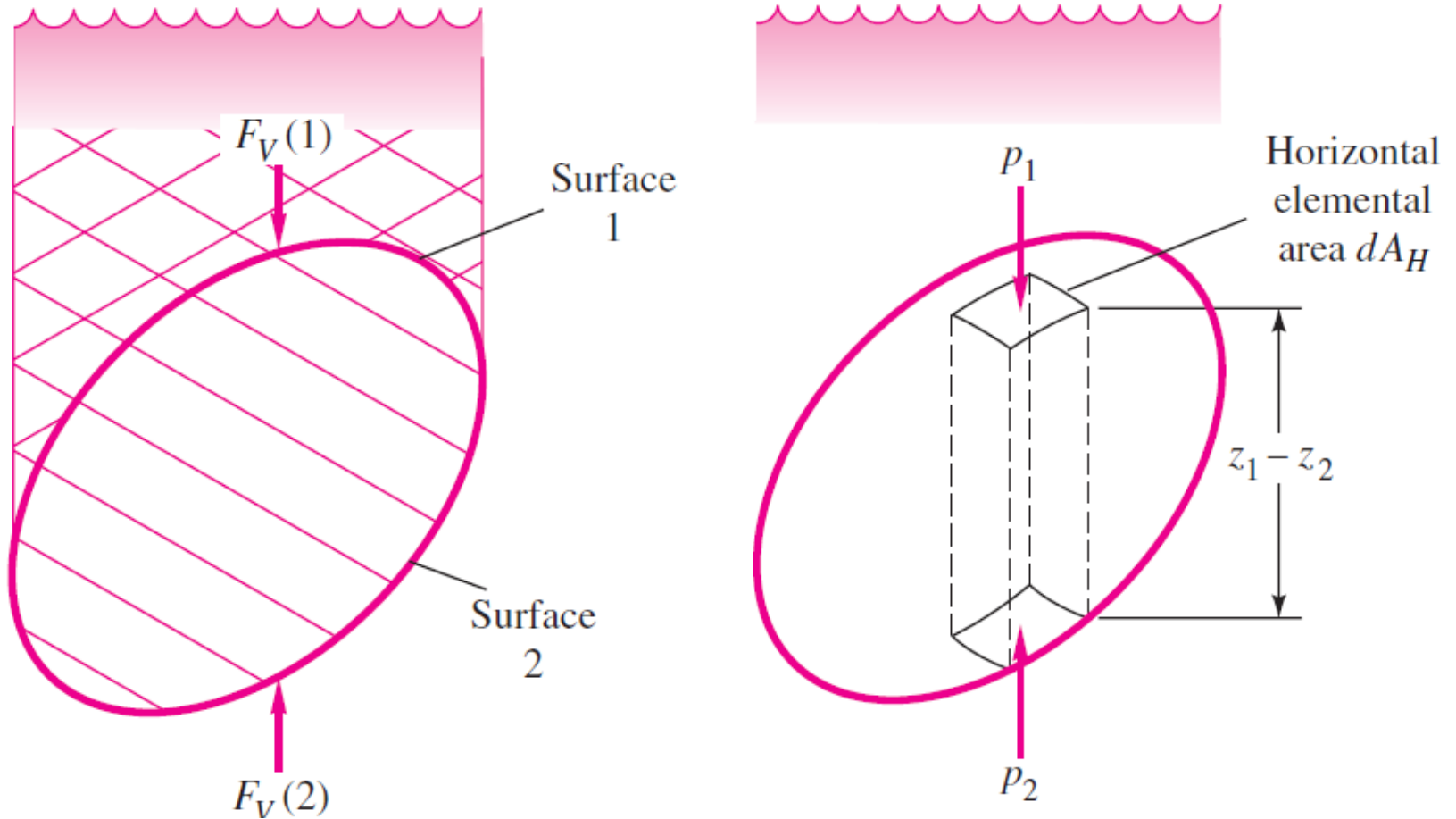


Estática dos Fluidos (parte 3)

Ref. White F.M., Mecânica dos
Fluidos, McGraw-Hill

Empuxo de objeto totalmente submerso

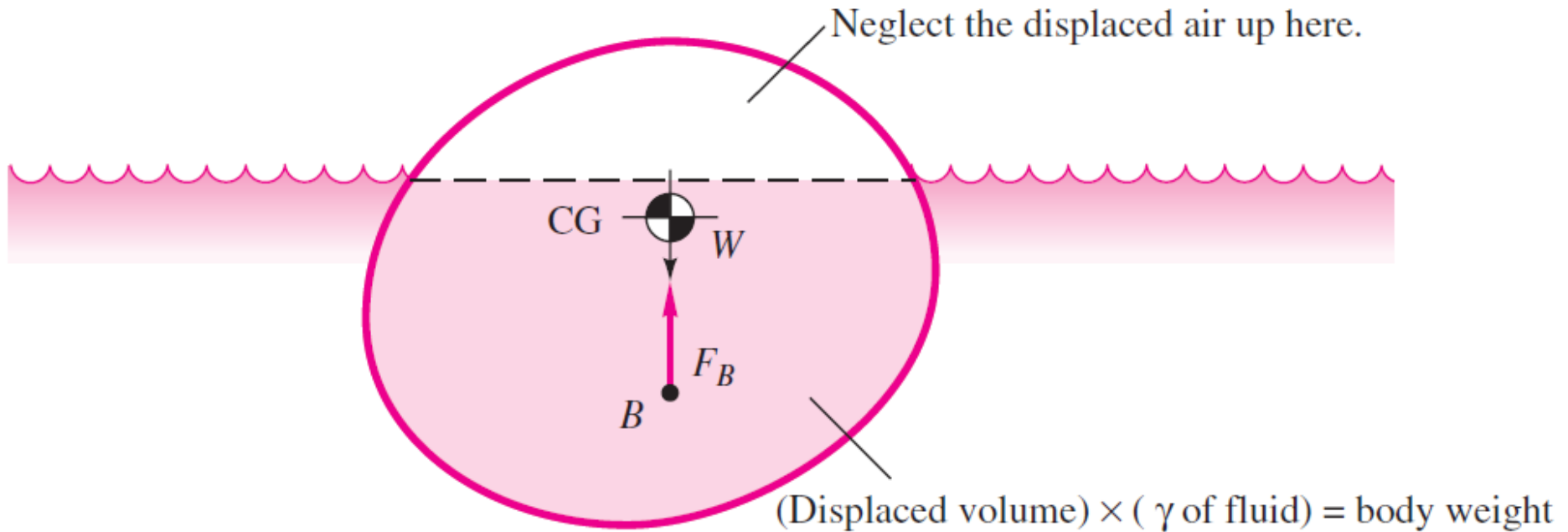


$$F_B = F_V(2) - F_V(1)$$

$$= (\text{fluid weight above 2}) - (\text{fluid weight above 1})$$

$$F_B = \int_{\text{body}} (p_2 - p_1) dA_H = -\gamma \int (z_2 - z_1) dA_H = (\gamma)(\text{body volume})$$

Empuxo de objeto Flutuante

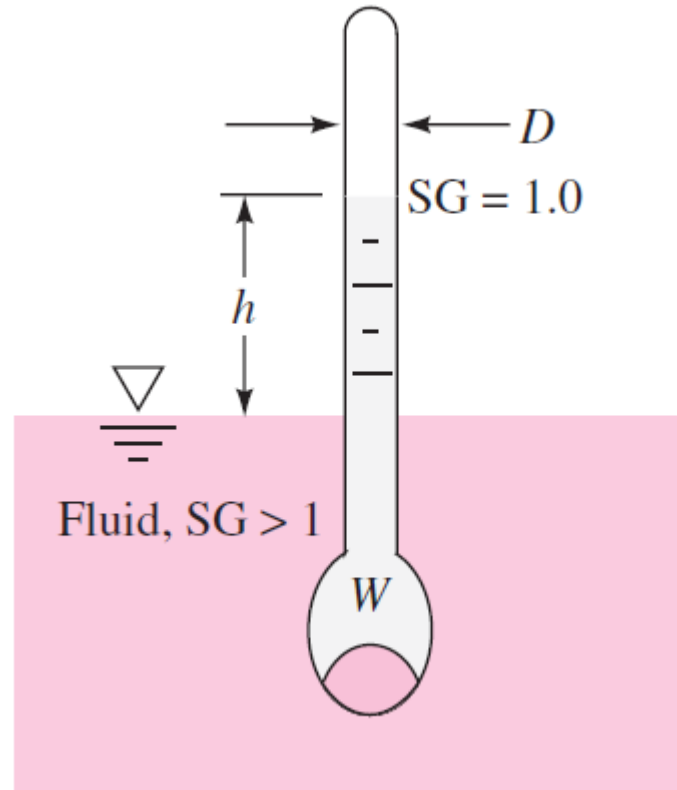


$$(F_B)_{LF} = \sum \rho_i g (\text{displaced volume})_i$$

OBS: no caso de objeto flutuante, peso = empuxo

Exemplo de aplicação: hidrômetro (densímetro)

- Para medir densidade de líquidos



Exemplo de aplicação: hidrômetro (densímetro)

- Calibra-se na água ($h=0$, ou seja, referência)

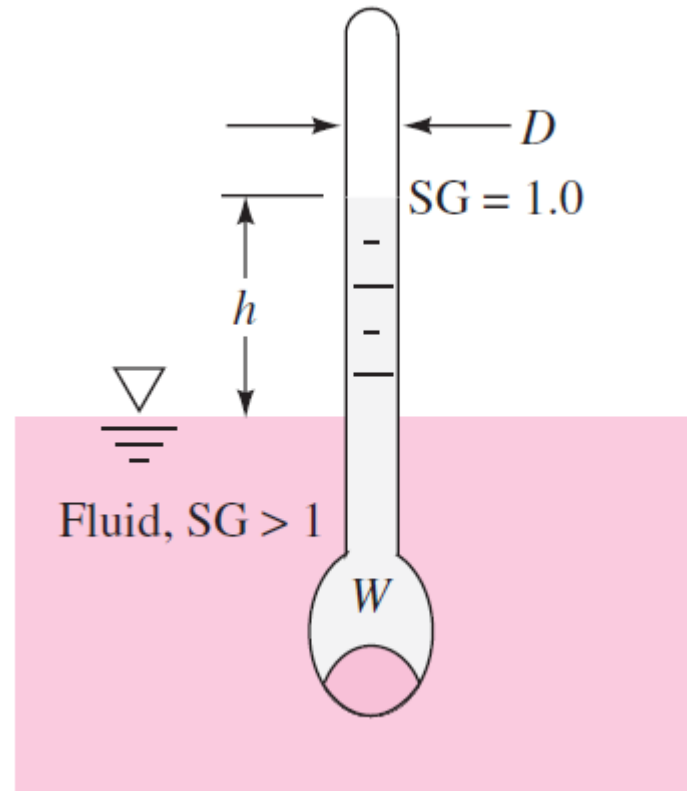
$$W = \gamma_{H_2O} \nabla$$

- Em outro fluido, $h \neq 0$

$$W = \gamma_f (\nabla - Ah)$$

- Combinando

$$h = \frac{\nabla}{A} \left(1 - \frac{\gamma_{H_2O}}{\gamma_f} \right)$$

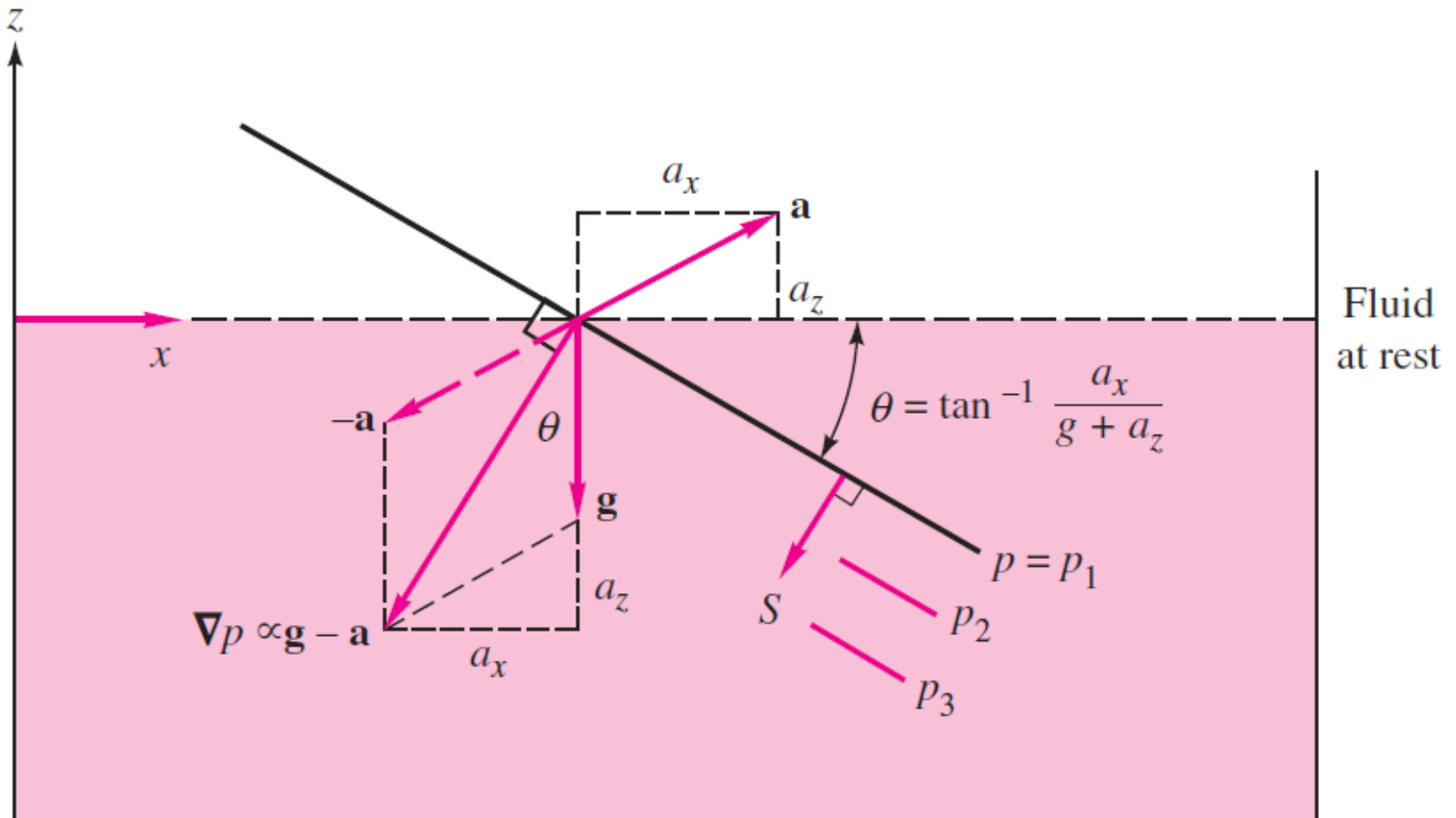


Fluido linearmente acelerado

- Recipiente contendo fluido é acelerado linearmente
- Todas as partículas se movem de forma idêntica
 - Movimento de corpo rígido
 - Não há movimento relativo entre elas
 - Não há taxa de deformação

Fluido linearmente acelerado

- Considere um referencial com $a_x \neq 0$ e $a_z \neq 0$



Fluido linearmente acelerado

- Para gravidade orientada no sentido negativo do eixo z

$$dP = -\rho a_x dx - \rho(g + a_z) dz$$

- Integrando entre 2 pontos arbitrários

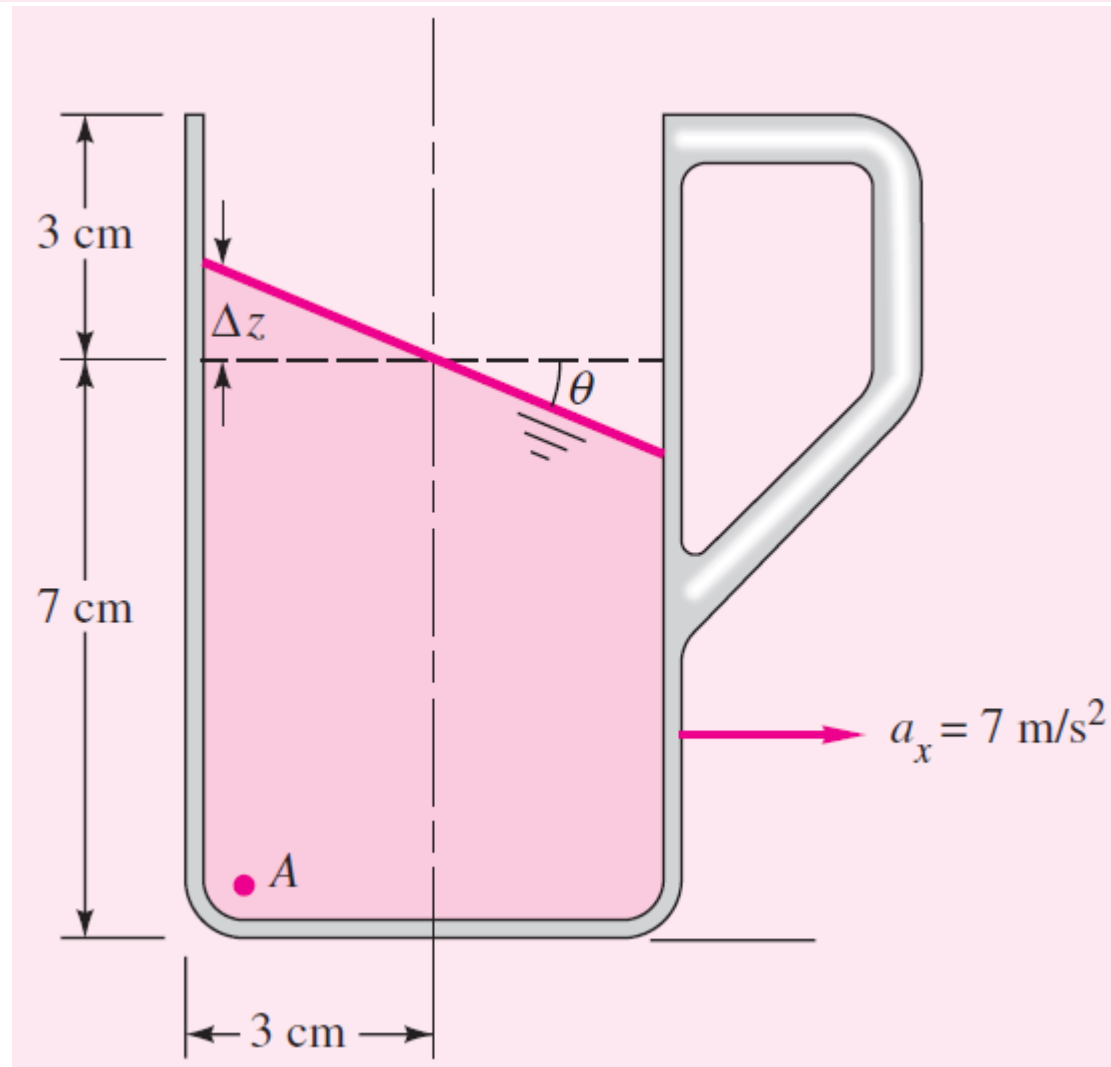
$$P_2 - P_1 = -\rho a_x (x_2 - x_1) - \rho(g + a_z)(z_2 - z_1)$$

- Para pontos 1 e 2 na superfície livre: pressão atmosférica

$$\operatorname{tg}\theta = \frac{a_x}{g + a_z}$$

$$\frac{dp}{ds} = \rho G \quad \text{where } G = [a_x^2 + (g + a_z)^2]^{1/2}$$

A drag racer rests her coffee mug on a horizontal tray while she accelerates at 7 m/s^2 . The mug is 10 cm deep and 6 cm in diameter and contains coffee 7 cm deep at rest. (a) Assuming rigid-body acceleration of the coffee, determine whether it will spill out of the mug. (b) Calculate the gage pressure in the corner at point A if the density of coffee is 1010 kg/m^3 .



$$\theta = \tan^{-1} \frac{a_x}{g} = \tan^{-1} \frac{7.0 \text{ m/s}^2}{9.81 \text{ m/s}^2} = 35.5^\circ$$

$$\Delta z = (3 \text{ cm})(\tan 35.5^\circ) = 2.14 \text{ cm} < 3 \text{ cm}$$

therefore no spilling

$$p_A = \rho G \Delta s = \left(1010 \frac{\text{kg}}{\text{m}^3}\right) \left[\sqrt{(9.81)^2 + (7.0)^2} \right] [(0.07 + 0.0214) \cos 35.5^\circ] \approx 906 \text{ Pa}$$

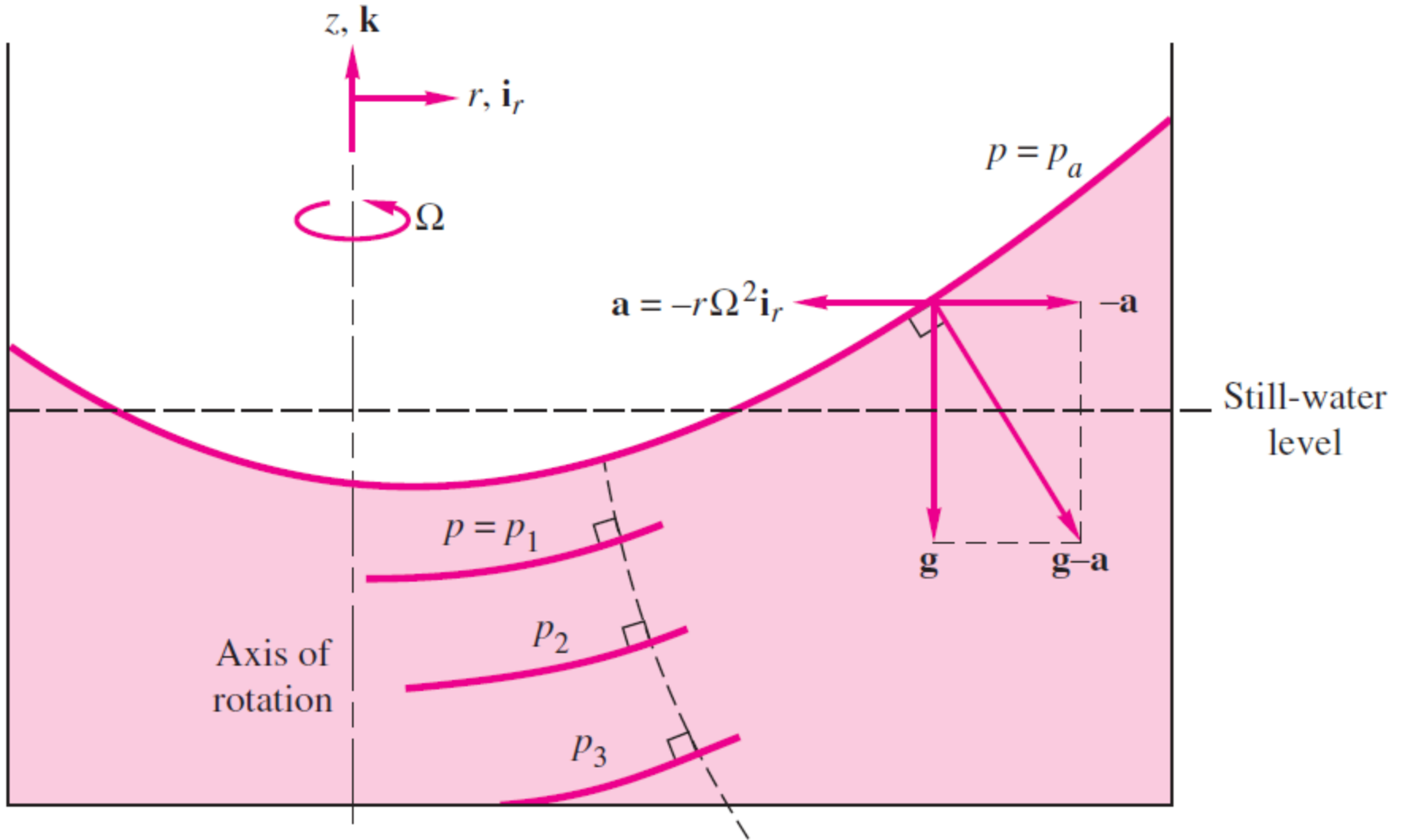
Ou, alternativamente, a pressão pode ser calculada entre o pto A e ao pto na SL verticalmente acima

$$p_A = \rho g (z_{\text{surf}} - z_A) = (1010 \text{ kg/m}^3)(9.81 \text{ m/s}^2)(0.0214 + 0.07 \text{ m}) = 906 \text{ Pa}$$

Sistema com fluido em rotação

- Recipiente contendo fluido possui velocidade angular constante
- Todas as partículas se movem de forma idêntica
 - Movimento de corpo rígido
 - Não há movimento relativo entre elas
 - Não há taxa de deformação
- Cada partícula de fluido estará sujeita à aceleração centrípeta

Sistema com fluido em rotação



Sistema com fluido em rotação

$$\boldsymbol{\Omega} = \mathbf{k}\Omega \quad \mathbf{r}_0 = \mathbf{i}_r r$$

$$\boldsymbol{\Omega} \times (\boldsymbol{\Omega} \times \mathbf{r}_0) = -r\Omega^2 \mathbf{i}_r$$

$$\nabla p = \mathbf{i}_r \frac{\partial p}{\partial r} + \mathbf{k} \frac{\partial p}{\partial z} = \rho(\mathbf{g} - \mathbf{a}) = \rho(-g\mathbf{k} + r\Omega^2 \mathbf{i}_r)$$

$$\nabla p = \rho(\mathbf{g} - \mathbf{a})$$

$$\frac{\partial p}{\partial r} = \rho r \Omega^2 \quad \frac{\partial p}{\partial z} = -\gamma$$

$$p = \text{const} - \gamma z + \frac{1}{2} \rho r^2 \Omega^2$$

Sistema com fluido em rotação

$$p = \text{const} - \gamma z + \frac{1}{2}\rho r^2 \Omega^2$$

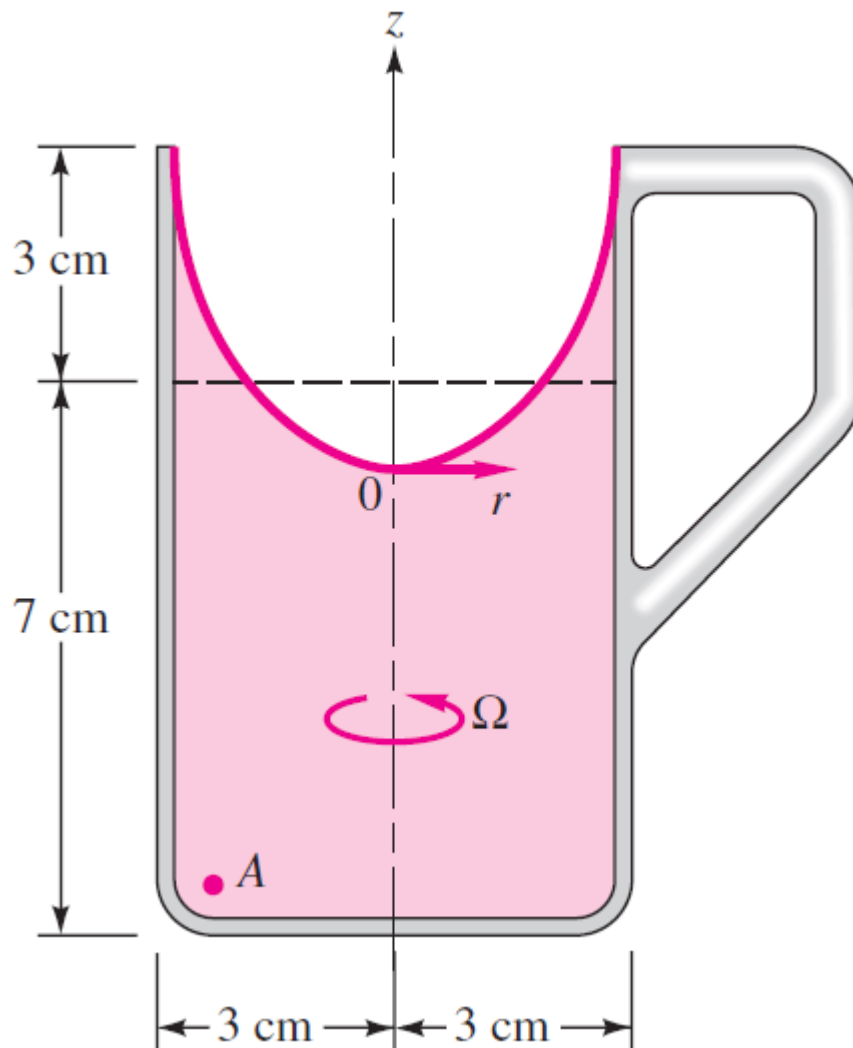
Para uma pressão de referência P_0 em $(r,z) = (0,0)$

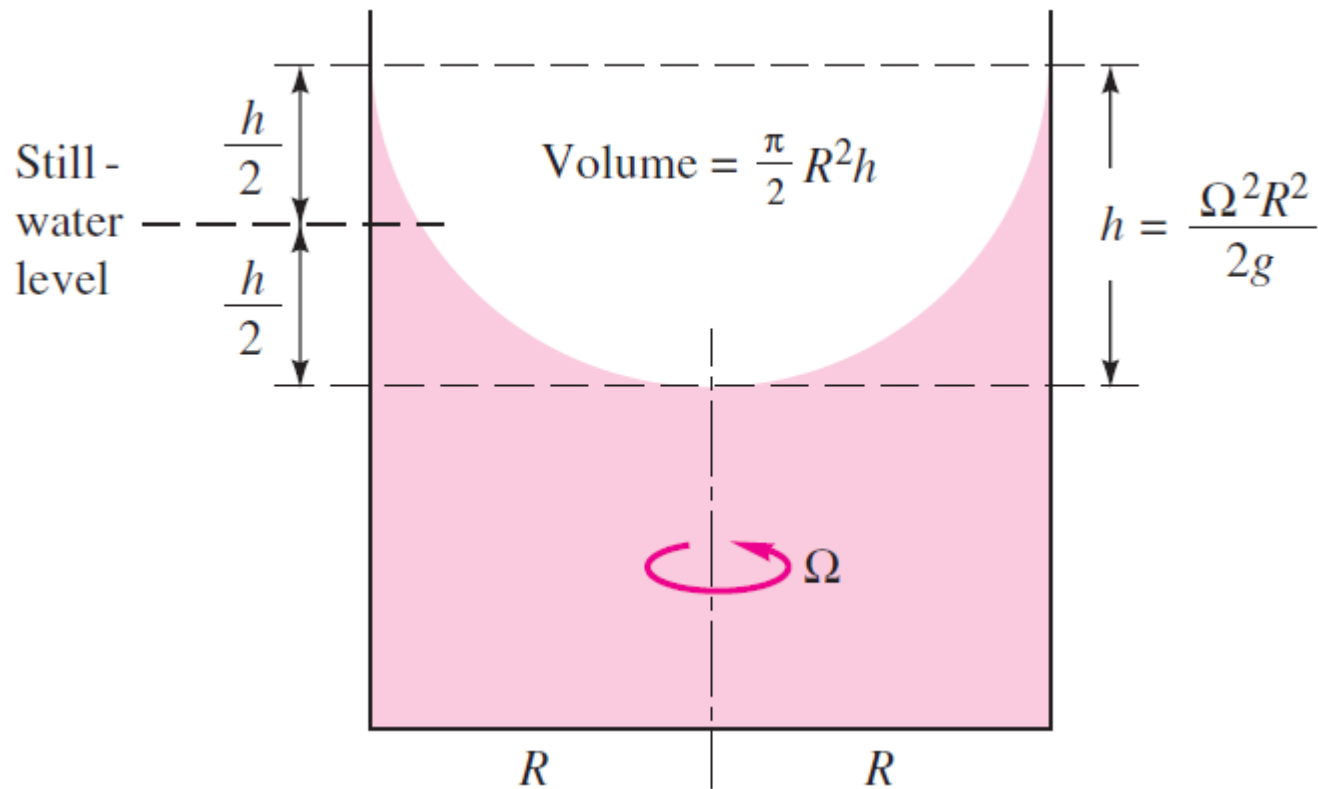
$$p = p_0 - \gamma z + \frac{1}{2}\rho r^2 \Omega^2$$

$$z = \frac{p_0 - p_1}{\gamma} + \frac{r^2 \Omega^2}{2g} = a + br^2$$

Logo, a superfície livre tem a forma de um parabolóide.

The coffee cup in Example 2.13 is removed from the drag racer, placed on a turntable, and rotated about its central axis until a rigid-body mode occurs. Find (a) the angular velocity that will cause the coffee to just reach the lip of the cup and (b) the gage pressure at point A for this condition.





$$\frac{h}{2} = 0.03 \text{ m} = \frac{\Omega^2 R^2}{4g} = \frac{\Omega^2 (0.03 \text{ m})^2}{4(9.81 \text{ m/s}^2)}$$



$$\Omega = 36.2 \text{ rad/s} = 345 \text{ r/min}$$

$$p = p_0 - \gamma z + \frac{1}{2} \rho r^2 \Omega^2$$



$$\begin{aligned} p_A &= 0 - (1010 \text{ kg/m}^3)(9.81 \text{ m/s}^2)(-0.04 \text{ m}) \\ &\quad + \frac{1}{2}(1010 \text{ kg/m}^3)(0.03 \text{ m})^2(1308 \text{ rad}^2/\text{s}^2) \\ &= 396 \text{ N/m}^2 + 594 \text{ N/m}^2 = 990 \text{ Pa} \end{aligned}$$